

7. Așezările rurale de tip palustru sunt caracteristice zonelor:
 a) ecuatoriale; b) subtropicale; c) tropical-aride; d) tropical-musonice.
8. Pădurile ecuatoriale din bazinul hidrografic Congo constituie habitatul pentru populația numită:
 a) berberi; b) dravidieni; c) hotentoti; d) pigmei.

Harta de mai jos prezintă **regiuni geografice** marcate cu **litere de la A la F**, **state** marcate cu **cifre de la 1 la 8** și **orașe cu peste 1 milion de locuitori**, marcate cu **cifre de la 9 la 18** și se referă la cerințele 9 - 17.

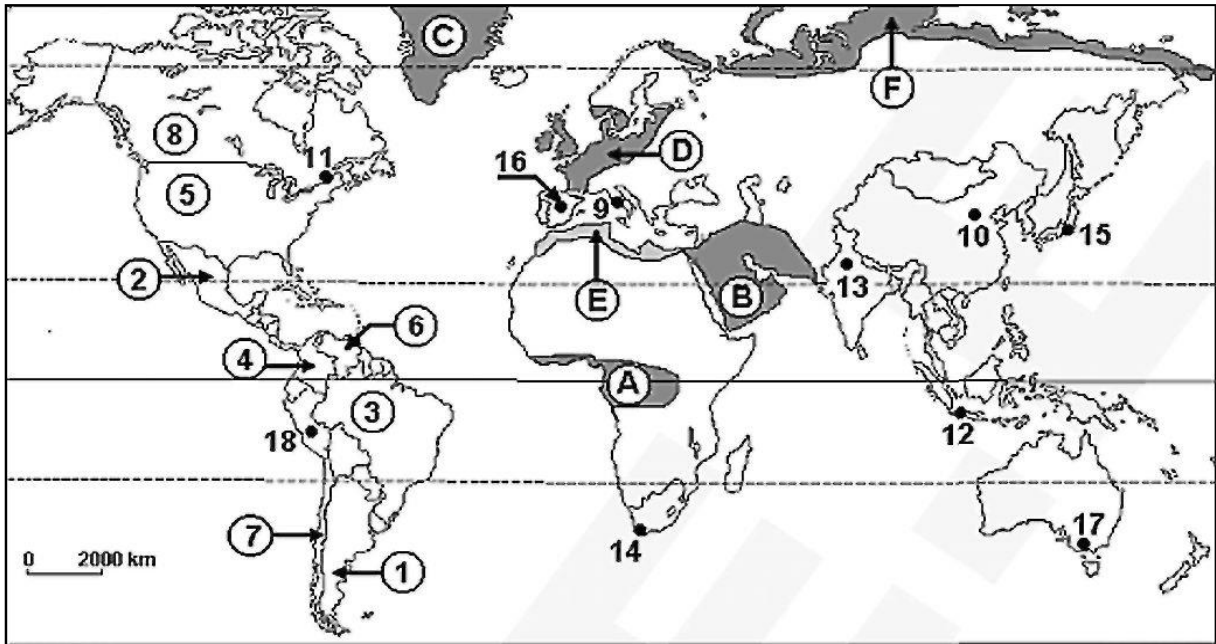


Figura nr.2

Selectați litera corespunzătoare răspunsului corect pentru fiecare dintre afirmațiile următoare:

9. Cele mai mari densități ale populației se înregistrează în regiunea geografică marcată, pe hartă, cu litera:
 a) A; b) B; c) D; d) F.
10. Capitala celui mai important pol demografic al lumii este marcată, pe hartă, cu cifra:
 a) 10; b) 12; c) 13; d) 15.
11. Megalopolisul Marilor Lacuri este situat de o parte și de alta a graniței dintre statele marcate, pe hartă, cu cifrele :
 a) 1 și 7; b) 2 și 5; c) 4 și 6; d) 5 și 8.
12. Peisajul rural de tip „bocage” este specific regiunii geografice marcată, pe hartă, cu litera :
 a) A; b) B; c) C; d) D.

13. În regiunea geografică marcată, pe hartă, cu litera E trăiește populația :
 a) bantu; b) berberă; c) boșimană; d) hotentotă.
14. Statul care s-a aflat în conflict cu Regatul Unit al Marii Britanii și al Irlandei de Nord pentru Insulele Malvine/Falkland este marcat, pe hartă, cu cifra :
 a) 1; b) 2; c) 6; d) 7.
15. Exclavele Ceuta și Melilla aparțin statului a cărui capitală este marcată, pe hartă, cu cifra:
 a) 9; b) 14; c) 16; d) 18.
16. Locuințele de tip „karaan”, săpate în rocă, sunt întâlnite într-un stat situat în regiunea geografică marcată, pe hartă, cu litera :
 a) A; b) B; c) D; d) E.
17. În structura confesională a statului a cărui capitală este marcată, pe hartă, cu cifra 12, ponderea cea mai mare este reprezentată de:
 a) budism; b) creștinism; c) hinduism; d) islamism.

Harta de mai jos se referă la cerințele 18 - 22

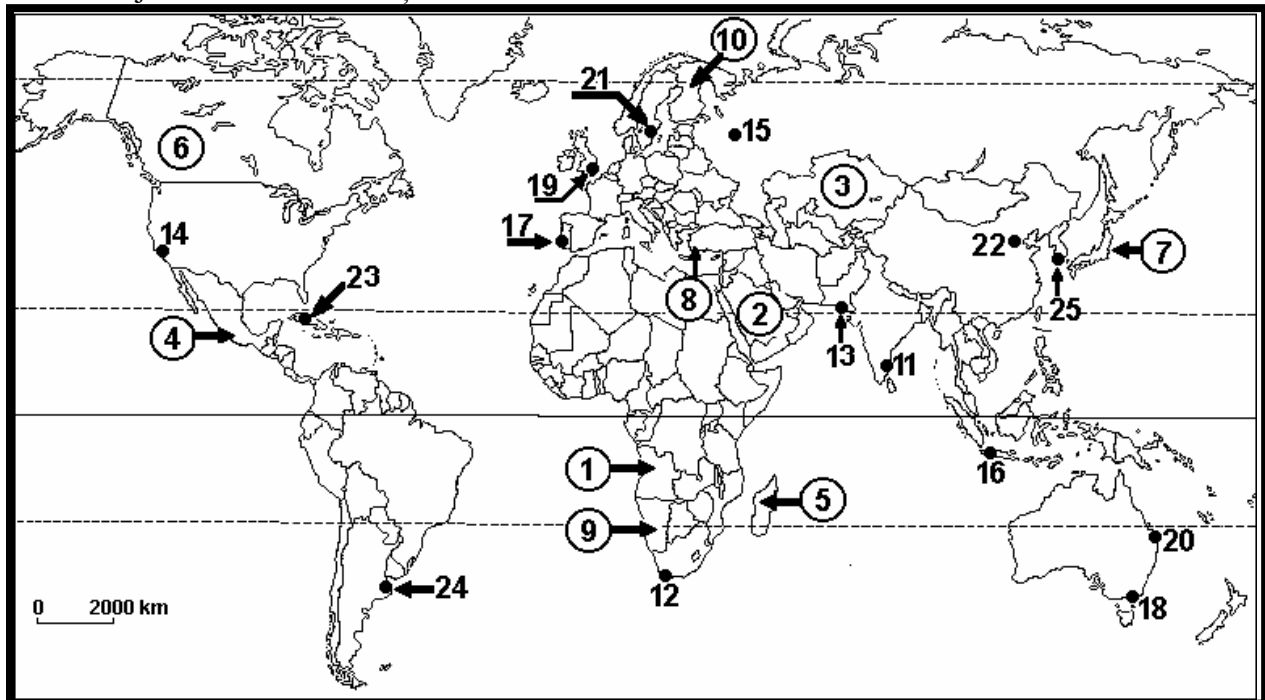


Figura nr.3 Harta politică a lumii și principalele metropole

18. Capitala statului marcat pe harta de mai sus cu numărul 6 se numește:
 a) Quebec; b) Toronto; c) Saskatchewan; d) Ottawa.
19. Forma de guvernământ a statului marcat pe harta de mai sus cu numărul 2 este:
 a) monarhie absolutistă; b) monarhie constituțională;
 c) republică parlamentară; d) republică prezidențială.

20. După funcția comercială, orașul marcat pe harta de mai sus cu numărul 18, este de tip:
 a) oraș-capitală; b) oraș-târg; c) oraș-gară; d) oraș-port.
21. Limba vorbită de majoritatea populației din statul marcat pe harta de mai sus cu numărul 10, aparține grupului lingvistic:
 a) slav; b) uralo-altaic; c) romanic; d) fino-ugric.
22. Orașul marcat pe harta de mai sus cu numărul 15 are o funcție predominant:
 a) de transporturi; b) industrială;
 c) administrativ-politică; d) turistică.

Harta de mai jos se referă la cerințele 23 - 42 . Pe hartă sunt marcate state cu numere de la 1 la 8 și orașe cu peste 1 milion de locuitori cu numere de la 9 la 18.

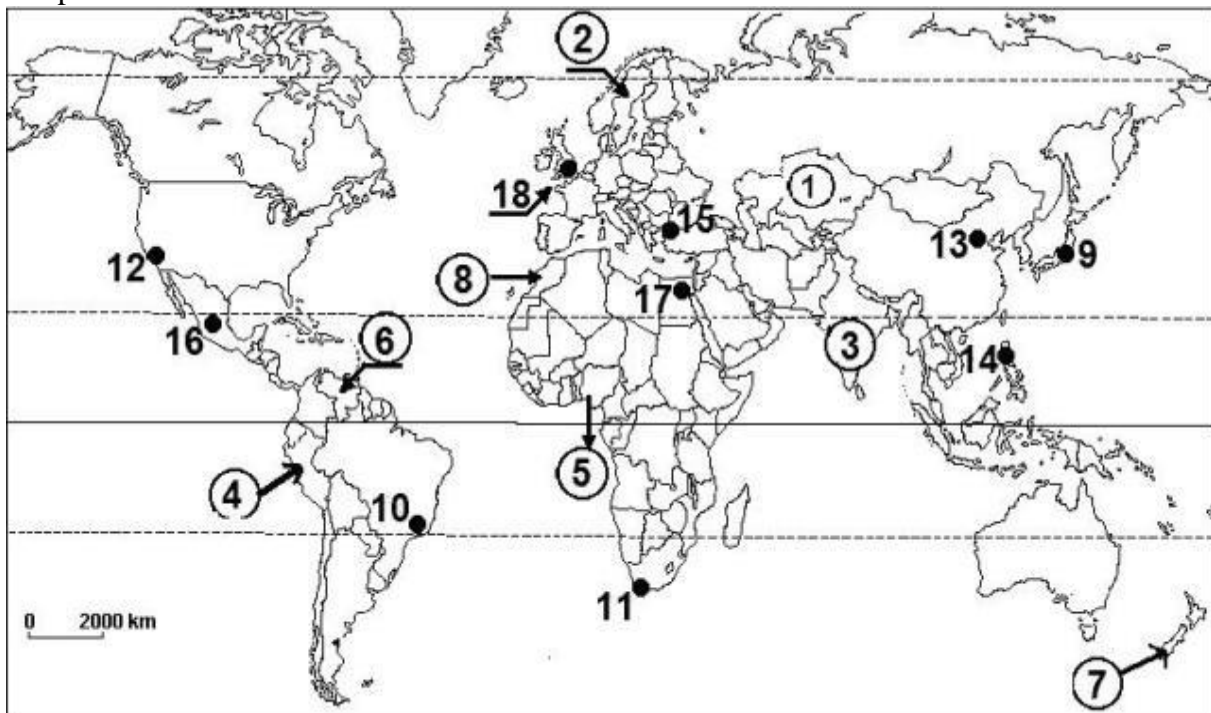


Figura nr.4 (sursa: www.google.com)

Selectați litera corespunzătoare răspunsului corect pentru fiecare dintre afirmațiile de mai jos:

23. Statul marcat, pe hartă, cu numărul 6 se numește:
 a) Bolivia; b) Columbia; c) Peru; d) Venezuela.
24. Gibraltar este un teritoriu dependent al statului a cărui capitală este marcată, pe hartă, cu numărul:
 a) 14; b) 16; c) 17; d) 18.
25. Cu numărul 7 este marcat, pe hartă, statul numit:
 a) Madagascar; b) Noua Zeelandă;
 c) Papua-Noua Guinee; d) Samoa de Vest.

26. Este un stat federal țara marcată, pe hartă, cu numărul:
a) 1; b) 3; c) 4; d) 8.
27. Statul marcat, pe hartă, cu numărul 2 este din punct de vedere al formei de guvernământ un:
a) ducat; b) emirat; c) principat; d) regat.
28. Din punct de vedere al configurației teritoriului, statul în care se află orașul marcat, pe hartă, cu numărul 11 are o formă:
a) alungită; b) compactă; c) fragmentată; d) perforată.
29. În prezent, o țară cu regim comunist este statul în care se află orașul marcat, pe hartă, cu numărul:
a) 13; b) 14; c) 16; d) 17.
30. După forma de guvernământ, este republică prezidențială statul marcat, pe hartă, cu numărul:
a) 2; b) 5; c) 7; d) 8.
31. Face parte din "Grupul celor 7" (G7) statul în care se află orașul marcat, pe hartă, cu numărul:
a) 10; b) 13; c) 15; d) 18.
32. S-a format după desființarea U.R.S.S. statul marcat, pe hartă, cu numărul:
a) 1; b) 2; c) 3; d) 8.
33. Au făcut parte din Imperiul colonial britanic statele marcate, pe hartă, cu numerele:
a) 1 și 2; b) 2 și 3; c) 3 și 5; d) 5 și 8.
34. Cea mai mare concentrare urbană este marcată, pe hartă, cu numărul:
a) 9; b) 13; c) 15; d) 18.
35. Capitala statului marcat, pe hartă, cu numărul 3 se numește:
a) Calcutta; b) Dacca; c) New Delhi; d) Ulan Bator.
36. Statul cu cea mai redusă rată a mortalității infantile este marcat, pe hartă, cu numărul:
a) 2; b) 3; c) 5; d) 6.
37. Cea mai ridicată speranță de viață se înregistrează în statul în care se află orașul marcat, pe hartă, cu numărul:
a) 9; b) 12; c) 15; d) 17.
38. În statul marcat, pe hartă, cu numărul 6 predomină cultul religios numit:
a) budism; b) catolicism; c) islamism; d) ortodoxism.
39. Face parte din familia altaică, limba vorbită în statul în care se află orașul marcat, pe hartă, cu numărul:
a) 11; b) 13; c) 15; d) 17.

40. Suniții predomină în statul marcat, pe hartă, cu numărul:
a) 2; b) 4; c) 6; d) 8.
41. Orașul marcat, pe hartă, cu numărul 12 face parte din megalopolisul:
a) BosWash; b) ChiPitts; c) San-San; d) Tokaido.
42. Orașul universitar Uppsala este situat în statul marcat, pe hartă, cu numărul:
a) 2; b) 3; c) 7; d) 8.
43. Tratatul de la Tordesillas a fost încheiat în 1494 între statele:
a) Mexic și Spania; b) Argentina și Portugalia;
c) Franța și Spania; d) Portugalia și Spania.
44. Limbile turcă și mongolă fac parte din familia limbilor :
a) altaice; b) indo-iraniene; c) sino-tibetane; d) uralice.
45. Ruinele orașului Knossos, unul dintre cele mai vechi orașe din Europa, se află în insula grecească:
a) Corfu; b) Creta; c) Rhodos; d) Santorini.
46. Tanzania s-a format din coagularea politică a teritoriilor:
a) Tanganyika și Malawi; b) Zambia și Tanganyika;
c) Tanganyika și Zanzibar; d) Zanzibar și Malawi.
47. Karabahul de Munte este o enclavă cu o populație majoritar:
a) armeană; b) azeră; c) cecenă; d) uigură.
48. Republica Democratică Congo este un stat african, care a fost colonie:
a) britanică; b) belgiană; c) franceză; d) olandeză.
49. Megalopolisul din care face parte orașul din imaginea de mai jos se numește:
a) Boswash; b) Chipitts; c) San San; d) Tokaido.



Figura nr.5 (sursă: <https://kids.nationalgeographic.com/geography/states/article>)

50. Prima Conferință a Organizației Națiunilor Unite privind mediul, s-a desfășurat în orașul:
a) Alger; b) Londra; c) Stockholm; d) Rio de Janeiro.

51. Ziguratele sunt temple construite pentru venerarea zeilor în regiunea:
a) America Andină; b) Mesopotamia; c) Delta Nilului; d) America Centrală.
52. Populația ainu este o grupare străveche de populație care locuiește în:
a) India; b) Japonia; c) Mongolia; d) Suedia.
53. Satul de tip crâng este specific regiunilor montane din:
a) Obcinele Bucovinene; b) Munții Apuseni;
c) Muscelele Argeșului; d) Țara Bârsei.
54. Imaginea de mai jos este sugestivă pentru o capitală europeană, numită Veneția Nordului. Numele acestei capitale este:



Figura nr.6 (sursă: <https://triplly.ro/>)

- a) Copenhaga; b) Helsinki; c) Stockholm; d) Oslo.
55. Tipul de sat denumit "ciflik" (din imaginea de mai jos), este specific pentru:



Figura nr.7 (sursă: https://ro.wikipedia.org/wiki/Ciflik,_Vidin)

- a) Armenia; b) Bulgaria; c) Grecia; d) România.
56. Procesul de urbanizare a început în continentul:
a) America de Nord; b) Australia;
c) Asia; d) Europa.

57. Cea mai veche dintre republicile actuale ale lumii este:
a) Andorra; b) Mongolia; c) San Marino; d) Sao Tome și Principe.
58. În peninsula Yukatan există vestigii ale imperiului:
a) Babilonian; b) Incaș; c) Mayaș; d) Bizantin.
59. Zona maritimă situată între 12-14 mile marine se numește :
a) ambiguă; b) contiguă; c) marea liberă; d) discontinuă.
60. Cele mai reduse valori ale natalității se întâlnesc pe continentul:
a) Africa; b) America de Nord; c) America de Sud; d) Asia.
61. Fenomenul migrației persoanelor cu o înaltă calificare se numește :
a) brain attack; b) brain drain; c) brain games; d) brain training.
62. Cel mai propice mediu de viață este mediul:
a) ecuatorial; b) forestier boreal;
c) mediteranean; d) tropical.
63. Prin amestecul raselor mongoloidă cu africană au rezultat :
a) metișii; b) mulatrii; c) pieile roșii; d) zambos.
64. Cea mai mare metropolă sud-americană este:
a) Buenos Aires; b) Lima; c) Rio de Janeiro; d) Sao Paulo.
65. Planul urban dezordonat este specific orașelor:
a) arabe; b) australiene; c) nord americane; d) sud americane.
66. Cea mai veche capitală din lume este orașul:
a) Damasc; b) Roma; c) Atena; d) Londra.
67. Țara africană cu cea mai mare producție de diamante este:
a) Bostwana; b) Liberia; c) Uganda; d) Zair.
68. Transhumanța, se mai practică și astăzi în peninsula:
a) Balcanică; b) California; c) Indochina; d) Somalia.
69. Fermele din Argentina sunt denumite:
a) ranch; b) estancias; c) fazendas; d) huerta.
70. Un centru urban portuar din zona Golfului Mexic este:
a) Austin; b) Dallas; c) Houston; d) Monterrey.

- 71.** Cele mai importante cinci orașe care intră în compunerea megalopolisului Boswash sunt:
a) Boston, New York, Washington, Chicago, Dallas;
b) Boston, New York, Detroit, Washington, Atlanta;
c) Boston, New York, Philadelphia, Baltimore și Washington;
d) Boston, New York, Columbus, Washington, Houston.
- 72.** Statul Nauru, este situat în:
a) Micronezia; b) Polinezia; c) Melanezia; d) Indonezia.
- 73.** Cea mai mare insulă nelocuită permanent din lume, situată în nordul Canadei, este:
a) Baffin; b) Devon; c) Bylot; d) Ellesmere Island.
- 74.** Revoluția industrială a debutat în Anglia, în secolul:
a) al XVI-lea; b) al XVIII-lea; c) al XIV-lea; d) al XIX-lea.
- 75.** Mediul tropical arid suprapus peste Deșertul Namib include teritoriile statelor:
a) Angola și Zambia; b) Namibia și Angola;
c) Namibia și Botswana; d) Angola și Botswana.
- 76.** Cunoscută pentru flora și fauna sa unică, insula Socotra aparține statului:
a) Oman; b) Indonezia; c) Thailanda; d) Yemen.
- 77.** Muntele Roraima, din America de Sud cu o suprafață netedă ca un platou, care a inspirat scrieri precum "The Lost World" de Arthur Conan Doyle sau filmul "Avatar", se găsește între statele:
a) Brazilia, Guyana, Venezuela; b) Brazilia, Columbia, Venezuela;
c) Brazilia, Peru, Bolivia; d) Brazilia, Paraguay, Bolivia.
- 78.** Între Golful Oman și Golful Persic se găsește strâmtoarea:
a) Mozambic; b) Tiran; c) Aqaba; d) Ormuz.
- 79.** O navă este considerată sub pavilion de complezență dacă:
a) proprietatea și controlul vasului se află într-o țară din Asia;
b) proprietatea și controlul vasului se află într-o țară din America Centrală;
c) proprietatea și controlul vasului se află în altă țară decât în țara pavilionului de navigație a navei;
d) proprietatea și controlul vasului se află în aceeași țară cu țara pavilionului de navigație a navei.
- 80.** Insula Spitzbergen, care se găsește în Oceanul Arctic, aparține statului:
a) Suedia; b) Norvegia; c) Finlanda; d) Danemarca.
- 81.** Insulele Galápagos din Oceanul Pacific sunt administrate de către statul:
a) Costa Rica; b) Panama; c) Ecuador; d) Belize.
- 82.** Orașul Gaborone este capitala statului:
a) Tanzania; b) Zimbabwe; c) Mozambic; d) Botswana.

83. Noțiunea *marea teritorială*, semnifică:

- a) zona maritimă până la 12 mile marine (22,2 km), în care statul riveran are drepturi depline;
- b) zona maritimă până la 18 mile marine (33,3) km, în care statul riveran are drepturi depline;
- c) zona maritimă până la 16 mile marine (29,6) km, în care statul riveran are drepturi depline;
- d) marea care aparține unui stat, parțial sau total.

84. Ce este zona numită “marea liberă”?

- a) o zonă maritimă care se întinde până la 50 de km de la țărm;
- b) o zonă ce se întinde dincolo de 200 de mile marine;
- c) o zonă foarte aproape de țărm în care se poate naviga fără probleme;
- d) zona situată la peste 200 m adâncime.

85. Migrația internă reprezintă:

- a) mișcarea populației dintr-o regiune a unei țări către altă regiune din aceeași țară;
- b) mișcarea populației dintr-o regiune a unei țări către altă regiune de același tip, din altă țară;
- c) mișcarea populației dintr-o regiune din mijlocul unei țări către altă regiune din mijlocul altei țări;
- d) mișcarea populației dintr-o regiune în alta.

86. Explozie demografică înseamnă:

- a) creșterea numerică a populației în zona rurală;
- b) creșterea numerică a populației în zona urbană;
- c) creșterea numerică a populației realizată într-un ritm foarte rapid și la valori mari;
- d) scăderea numerică a populației realizată într-un ritm foarte rapid și la valori mari.

87. Ca entitate numerică și statistică, populația este studiată de știința denumită:

- a) populaționism;
- b) numerologia populației;
- c) demografie;
- d) antropologie.

88. O formă de organizare federală de tipul cantoanelor este specifică statului:

- a) Elveția;
- b) Franța;
- c) Germania;
- d) Mexic.

89. Cel mai întins stat din emisfera sudică este:

- a) Argentina;
- b) Australia;
- c) Brazilia;
- d) Republica Africa de Sud.

90. Canalul Suez este situat pe teritoriul statului:

- a) Egipt;
- b) Grecia;
- c) Panama;
- d) Turcia.