

CONCURSUL NAȚIONAL ” GEOINFOVIRTUAL ” 2019

SUBIECTE CLASA A X-A

Identificați litera corespunzătoare răspunsului corect pentru fiecare din afirmațiile de mai jos. În rezolvarea cerințelor veți folosi acolo unde este cazul imaginile și hărțile oferite pentru sprijin. Toate subiectele sunt obligatorii. Timpul efectiv de lucru este de 2 ore. Din oficiu se acordă 10 puncte.

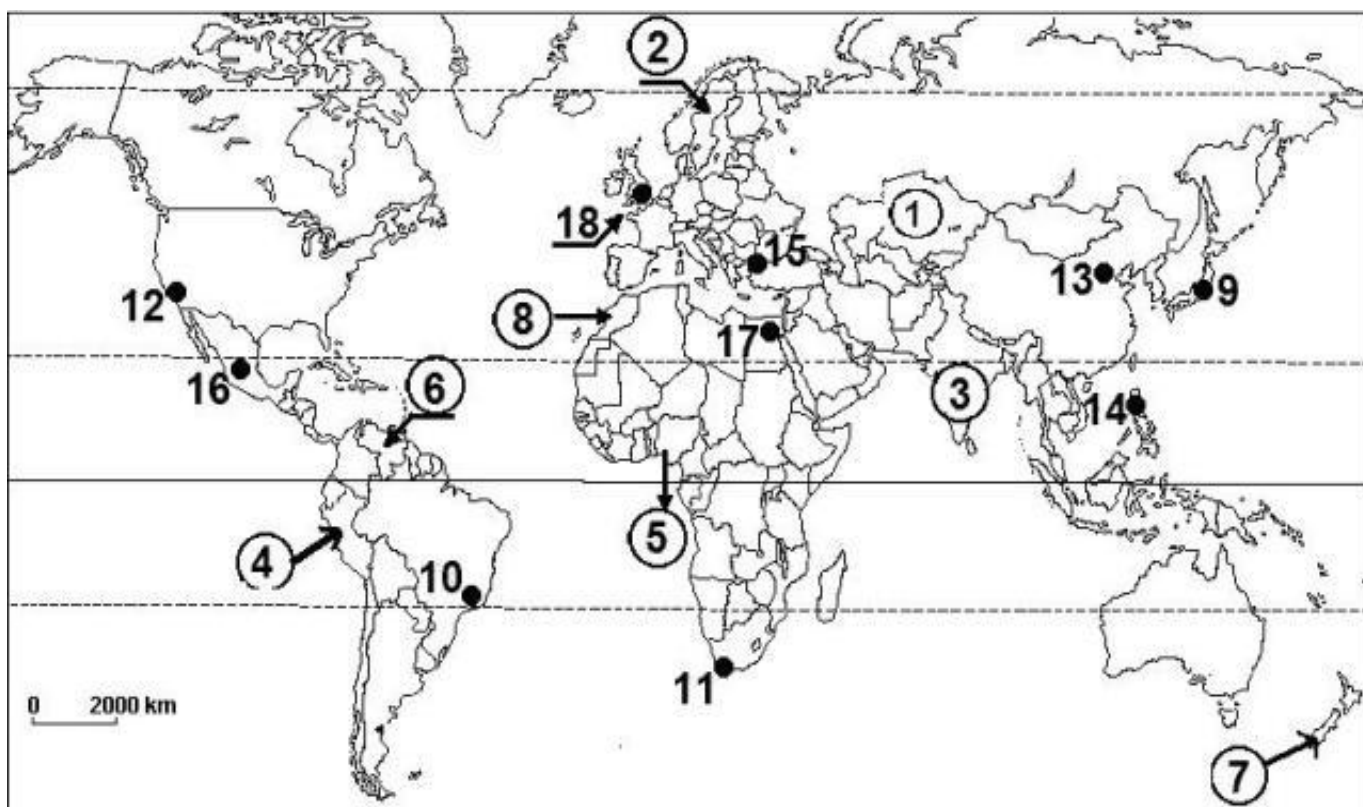


Figura nr.1 Pe harta de mai sus sunt marcate state cu numere de la 1 la 8 și orașe cu peste 1 milion de locuitori cu numere de la 9 la 18.

Selectați litera corespunzătoare răspunsului corect pentru fiecare dintre afirmațiile de mai jos:

1. Statul marcat, pe hartă, cu numărul 4 se numește:
a) Bolivia; b) Columbia; c) Ecuador; d) Peru.
2. Gibraltar este un teritoriu dependent al statului a cărui capitală este marcată, pe hartă, cu numărul:
a) 13; b) 15; c) 16; d) 18.
3. Cu numărul 7 este marcat, pe hartă, statul numit:
a) Madagascar; b) Noua Zeelandă;
c) Papua- Noua Guinee; d) Samoa de Vest.
4. În Peninsula Asia Mică este situat statul în care se află orașul marcat, pe hartă, cu numărul:
a) 9; b) 13; c) 15; d) 17.

5. În prezent o țară comunistă este statul în care se află orașul marcat, pe hartă, cu numărul:
a) 10; b) 13; c) 15; d) 18.
6. Din punct de vedere al configurației teritoriului, statul în care se află orașul marcat, pe hartă, cu numărul 11 are o formă:
a) alungită; b) compactă; c) fragmentată; d) perforată.
7. După forma de guvernământ, statul a cărui capitală este marcată, pe hartă, cu numărul 9 este:
a) monarhie absolută; b) monarhie constituțională;
c) republică parlamentară; d) republică prezidențială.
8. Capitala statului marcat, pe hartă, cu numărul 3 se numește:
a) Calcutta; b) Jakarta; c) Kuala Lumpur; d) New Delhi.
9. Face parte din G8 (Grupul celor 8) statul în care se află orașul marcat, pe hartă, cu numărul:
a) 10; b) 13; c) 15; d) 18.
10. Rata natalității înregistrează cele mai mari valori în statul marcat, pe hartă, cu numărul:
a) 1; b) 2; c) 3; d) 5.
11. Statul cu cea mai redusă rată a mortalității infantile este marcat, pe hartă, cu numărul:
a) 2; b) 3; c) 5; d) 6.
12. Cele mai mari valori ale densității populației se înregistrează în statul marcat, pe hartă, cu numărul:
a) 2; b) 3; c) 5; d) 8.
13. Mediul de viață tropical cu două anotimpuri este specific statului marcat, pe hartă, cu numărul:
a) 1; b) 2; c) 3; d) 7.
14. În statul marcat, pe hartă, cu numărul 6 predomină cultul religios numit:
a) budism; b) catolicism; c) islamism; d) ortodoxism.
15. Face parte din familia altaică limba vorbită în statul în care se află orașul marcat, pe hartă, cu numărul:
a) 11; b) 13; c) 15; d) 17.
16. Limba oficială a statului marcat, pe hartă, cu numărul 8 face parte din familia:
a) dravidiană; b) semito-hamitică; c) sino-tibetană; d) uralică.
17. Suniții predomină în statul marcat, pe hartă, cu numărul:
a) 2; b) 4; c) 6; d) 8.
18. Cel mai mare grad de urbanizare îl are statul în care se află orașul marcat, pe hartă, cu numărul:
a) 13; b) 15; c) 17; d) 18.
19. Cea mai ridicată speranță de viață la naștere se înregistrează în statul în care se află orașul marcat, pe hartă, cu numărul:
a) 9; b) 10; c) 16; d) 17.

20. Indicele de dezvoltare umană (IDU) are valori mai mari în statul marcat, pe hartă, cu numărul:
 a) 2; b) 3; c) 4; d) 5.
21. Orașul marcat, pe hartă, cu numărul 12 face parte din megalopolisul:
 a) BosWash; b) ChiPitts; c) San-San; d) Tokaido.
22. Capitala statului marcat, pe hartă, cu numărul 1 se numește:
 a) Ankara; b) Astana; c) Canberra; d) Kathmandu.
23. Orașul universitar Uppsala este situat în statul marcat, pe hartă, cu numărul:
 a) 2; b) 3; c) 7; d) 8.
24. Kraal-ul este așezarea caracteristică statului în care se află orașul marcat, pe hartă, cu numărul:
 a) 9; b) 11; c) 13; d) 15.
25. Orașul Benares (Varanasi) din statul marcat, pe hartă, cu numărul 3 are predominant funcție:
 a) comercială; b) portuară; c) religioasă; d) universitară.
26. Tipul de sat denumit ”ciflik” există în statul în care se află orașul marcat, pe hartă, cu numărul:
 a) 10; b) 14; c) 15; d) 17.
27. Iurta este o structură de locuit specifică statului marcat, pe hartă, cu numărul:
 a) 1; b) 3; c) 4; d) 5.
28. Spațiile urbanizate, periferice, locuite majoritar de imigranți, cu grad scăzut al ocupării profesionale, radicalism ideologic sau religios, rată ridicată a criminalității, se numesc:
 a) ”no-go area”; b) ”no-zone”; c) ”never-go-zone”; d) ”forbiden area”.
29. Imaginea de mai jos reprezintă tipul de locuire numit:


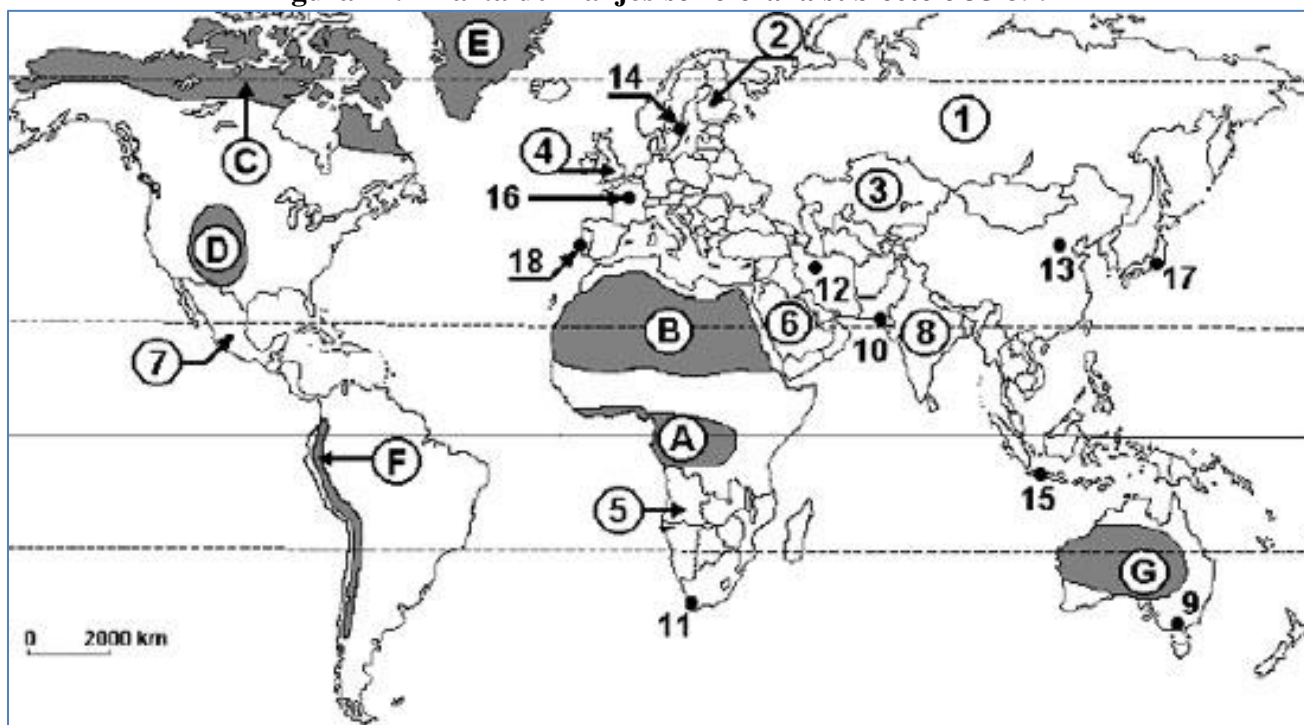


Figura nr.2

- a) Kraal; b) kibutz; c) favelhas; d) oraș-dormitor.

Figura nr.4 Harta de mai jos se referă la subiectele 35-39.



Identificați litera corespunzătoare răspunsului corect pentru fiecare din afirmațiile de mai jos.

35. Statul marcat pe hartă cu numărul 3 se numește:
 a) Afganistan; b) Mongolia; c) Kazahstan; d) Uzbekistan.
36. Are trei capitale statul în care se află orașul marcat pe hartă cu numărul
 a) 11; b) 15; c) 12; d) 10.
37. Forma de guvernământ pentru statele marcate, pe hartă, cu cifrele 4 și 17 este:
 a) republică parlamentară; b) monarhie constituțională;
 c) republică prezidențială; d) monarhie absolutistă.
38. Sunt state federale cele marcate pe hartă cu cifrele:
 a) 6 și 13; b) 5 și 6; c) 7 și 8; d) 1 și 2.
39. Tipul de medii geografice marcat cu litera A include statele:
 a) Angola; b) Gabon; c) Zambia; d) Niger.
40. Amplificarea procesului de decolonizare și schimbarea numelui unor state au caracterizat:
 a) perioada interbelică; b) sfârșitul secolului al XIX-lea;
 c) etapa modernă; d) etapa de după al II-lea Război Mondial.
41. Așezările urbane Buffalo, Cincinnati, Columbus, Indianapolis, Louisville fac parte din megalopolisul:
 a) SanSan; b) Boswash; c) Chipitts; d) Chesapeake.
42. Coridorul de urbanizare discontinuă din Europa de Vest, extins din nord-vestul Angliei, în nord, și până la Milano, având cca. 110 mil. loc se numește:
 a) TriRhena; b) Zugspitze; c) Blue banana; d) Yellow banana.

43. Silicon Valley este partea sudică a orașului:
 a) San Francisco; b) Los Angeles; c) Las Vegas; d) San Diego.
44. Cel mai vechi oraș din lume este situat pe teritoriul:
 a) Iranului; b) Irakului; c) Siriei; d) Israelului.
45. Precizați tipul de evoluție demografică ilustrat de piramidele reprezentate mai jos:

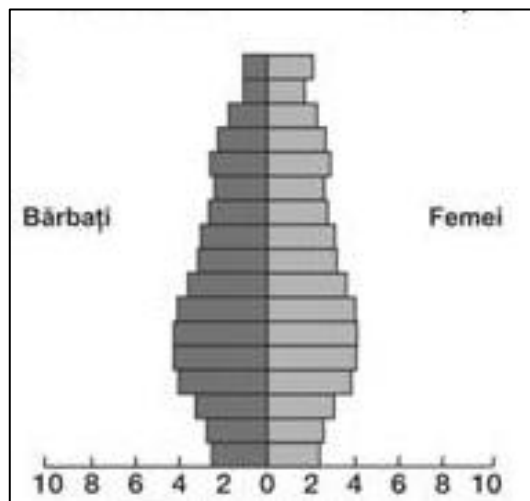


Figura nr.5

- a) creștere demografică rapidă; b) creștere demografică lentă;
 c) stagnare / declin demografic; d) creștere demografică medie.
46. Imaginile de mai jos reprezintă orașul:
 a) Amsterdam; b) Roma; c) Brăila; d) Valencia.



Figura nr.6

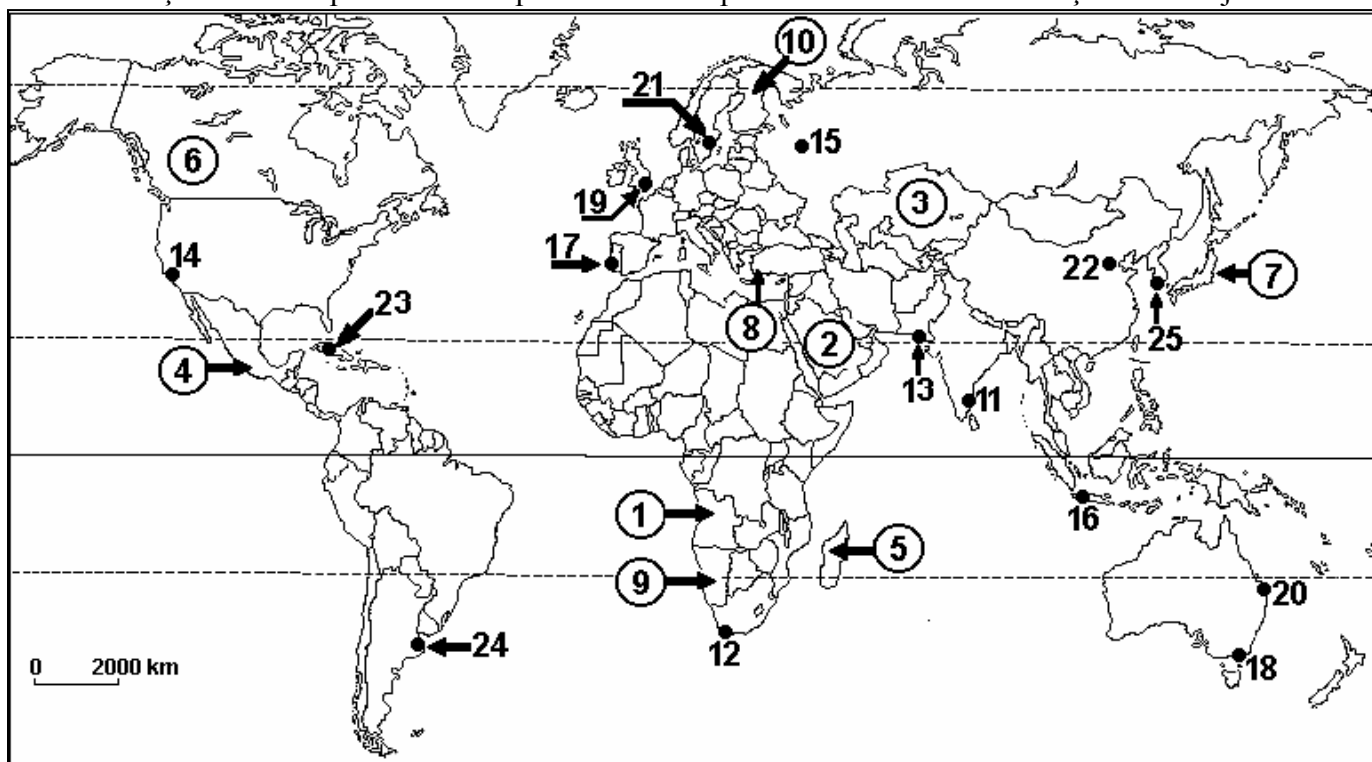
47. Cultura arborelui de cacao și a cartofului este activitatea dominantă în așezările rurale din:
 a) Munții Anzi; b) provincia Yunan;
 c) Podișul Patagoniei; d) Podișul Tibet.
48. Peisajul agricol de tip *huerta* este specific:
 a) spațiului andin; b) zonei mediteraneene;
 c) pampasului argentinian; d) Podișului Guyanelor.

61. Cele trei mari religii monoteiste ale lumii actuale sunt:

- a) iudaismul, creștinismul, hinduismul ; b) budismul, iudaismul, confucianismul ;
c) creștinismul, budismul, islamismul ; d) iudaismul, creștinismul, islamismul.

Figura nr.7 Harta de mai jos se referă la subiectele 62-84. Pe hartă sunt marcate **state**, cu numere de la **1 la 10** și **orașe** cu peste 1 milion de locuitori, cu numere de la **11 la 25**.

Selectați litera corespunzătoare răspunsului corect pentru fiecare dintre afirmațiile de mai jos:



Sursa: www.google.com

62. Antananarivo este capitala statului, marcat pe hartă, cu cifra:

- a) 1; b) 3; c) 5; d) 9.

63. Ca formă de guvernare, monarhia absolută este caracteristică statului marcat, pe hartă, cu cifra:

- a) 2; b) 6; c) 7; d) 10 .

64. Statul marcat, pe hartă, cu cifra 6 face parte din gruparea regională de state numită :

- a) ASEAN ; b) NAFTA ; c) MERCOSUR ; d) OUA.

65. Capitala statului cu cei mai mulți vecini este marcată, pe hartă, cu cifra :

- a) 11; b) 15; c) 16; d) 22.

66. Locul de pelerinaj Fatima se află situat în statul a cărui capitală este marcată, pe hartă, cu cifra :

- a) 13; b) 17; c) 23; d) 24.

67. Orașul marcat, pe hartă, cu cifra 13 se numește:

- a) Bangalore; b) Islamabad; c) Karachi; d) Varanasi.

68. Orașul construit pe locul vechii capitale aztece Tenochtitlan este capitala statului marcat, pe hartă, cu cifra :

- a) 1; b) 3; c) 4; d) 8.

- 69.** Boșimani trăiesc în statul marcat, pe hartă, cu cifra:
a) 3; b) 4; c) 5; d) 9.
- 70.** Din familia lingvistică uralică face parte o limbă vorbită în statul marcat, pe hartă, cu cifra :
a) 4; b) 5; c) 6; d) 10.
- 71.** Șintoismul este o religie specifică statului marcat, pe hartă, cu cifra :
a) 1; b) 3; c) 7; d) 9.
- 72.** Orașul marcat, pe hartă, cu cifra 19 face parte din megalopolisul numit :
a) ChiPitts; b) Midlands; c) Randstad; d) San-San.
- 73.** O comunitate importantă de musulmani trăiește în statul a cărui capitală este marcată, pe hartă, cu cifra:
a) 16; b) 22; c) 24; d) 25.
- 74.** Orașul minier Kiruna este situat în statul a cărui capitală este marcată, pe hartă, cu cifra:
a) 12; b) 15; c) 21; d) 24;
- 75.** Timorul de Est a fost o posesiune a statului a cărui capitală este marcată, pe hartă, cu cifra :
a) 16; b) 17; c) 19; d) 22;
- 76.** Statul marcat pe harta de mai sus cu numărul 4 este o republică federală alcătuită din:
a) 30 de state; b) 31 de state;
c) 50 de state; d) 41 de state.
- 77.** Orașul marcat pe harta de mai sus cu numărul 15 a fost capitala Uniunii Republicilor Sovietice Socialiste, până în :
a) 1989; b) 1990; c) 1991; d) 1995.
- 78.** În a doua jumătate a secolului al XIX-lea, metropola marcată pe harta de mai sus cu numărul 24 era centru de imigrație pentru:
a) brazilieni și peruani; b) italieni și spanioli;
c) chilieni și bolivieni; d) spanioli și portughezi.
- 79.** Religia oficială a statului marcat pe harta de mai sus cu numărul 9 este:
a) creștină; b) islamică;
c) musulmană; d) animistă.
- 80.** Statul marcat pe harta de mai sus cu numărul 7, are un sistem politic de tip :
a) monarhie constituțională; b) republică parlamentară;
c) monarhie absolută; d) împărăție.
- 81.** Statul marcat pe harta de mai sus cu numărul 2 este împărțit administrativ în:
a) provincii; b) sultanate;
c) emirate; d) districte.
- 82.** În capitala statului marcat pe harta de mai sus cu numărul 5 se vorbește, oficial, limba:
a) portugheză; b) madagascară; c) malgașă; d) engleză.

